


**VI WOJEWÓDZKI KONKURS Z HISTORII
DLA UCZNIÓW SZKÓŁ PODSTAWOWYCH WOJEWÓDZTWA
ŚWIĘTOKRZYSKIEGO**

ETAP III – WOJEWÓDZKI

**12 marca 2025 r.
Godz. 10:00**



Kod pracy ucznia






Suma punktów

Czas pracy: 60 minut

Liczba punktów możliwych do uzyskania: 75 punkty

Instrukcja dla ucznia (dotyczy wersji papierowej)

1. W wyznaczonym miejscu arkusza z zadaniami konkursowymi wpisz swój kod.
2. Sprawdź, czy na kolejno ponumerowanych 15 stronach są wydrukowane 23 zadania.
3. Ewentualny brak stron lub inne usterki zgłoś Komisji Konkursowej.
4. Czytaj uważnie wszystkie teksty i zadania, oglądaj ilustracje. Wykonuj zadania zgodnie z poleceniami.
5. Rozwiązania zadań zapisuj długopisem lub piórem z czarnym lub niebieskim tuszem/atramentem.
6. Nie używaj korektora.
7. Rozwiązania zadań zamkniętych zaznacz  w arkuszu z zadaniami konkursowymi.
8. Jeśli się pomylisz, błędne zaznaczenie przekreśl krzyżykiem, np.:  i zaznacz kółkiem inną wybraną odpowiedź, np.: .
9. Rozwiązania zadań zapisz czytelnie i starannie w wyznaczonych miejscach w arkuszu z zadaniami konkursowymi. Ewentualne pomyłki przekreślaj.


Powodzenia!

Zadanie 1. (0–8)

Zdjęcie prezentuje tzw. „Wielką Czwórkę”, czyli polityków reprezentujących cztery zwycięskie mocarstwa. Dopasuj imiona i nazwiska tych polityków oraz państwa, które reprezentowali do numeracji na zdjęciu, poprawne odpowiedzi wpisz w miejsca wykropkowane.

A. Franklin Delano Roosevelt, B. Vittorio Orlando, C. Neville Chamberlain, D. Georges Clemenceau,
E. David Lloyd George, F. Edouard Daladier, G. Thomas Woodrow Wilson

I. Stany Zjednoczone, II. Włochy, III. Wielka Brytania, IV. Francja



1.
2.
3.
4.

Zadanie 2. (0–1)

Kto był autorem poniższych słów? Wybierz i zaznacz właściwą odpowiedź.

“Należy stworzyć niezależne państwo polskie, które winno obejmować terytoria zamieszkane przez ludność niezaprzeczalnie polską, któremu należy zapewnić swobodny i bezpieczny dostęp do morza i którego niezależność polityczną i gospodarczą oraz integralność terytorialną należy zagwarantować paktem międzynarodowym”

- A. David Lloyd George,
- B. Thomas Woodrow Wilson,
- C. Włodzimierz Lenin,
- D. Georges Clemenceau

Zadanie 3. (0–5)

Rozstrzygnij i zaznacz, które zdania są prawdziwe, a które fałszywe:

- 1. Traktat pokojowy z Niemcami podpisano 28 czerwca 1919 r. P / F
- 2. Liga Narodów działała w latach 1920-1939. P / F
- 3. W wyniku I wojny światowej zginęło 18,5 mln żołnierzy. P / F
- 4. Tzw. mały traktat wersalski dotyczył rozbrojenia państw pokonanych. P / F
- 5. “New Deal” to program, którego celem było naprawienie gospodarki USA. P / F

Zadanie 4. (0–4)

Rozpoznaj i wpisz w miejsca wykropkowane imiona i nazwiska postaci (z pośród wymienionych poniżej), które są związane z państwami totalitarnymi okresu międzywojennego.

- 1. Stał na czele SS (Sztafety Ochronne NSDAP) od 1929.r.
.....
- 2. W 1921 roku utworzył Narodową Partię Faszystowską.
.....
- 3. Był autorem słów: “kłamstwo powtarzane tysiąc razy staje się prawdą”.
.....
- 4. W 1933 roku został kanclerzem Niemiec.
.....

- A. Heinrich Himmler,
- B. Josef Goebbels,
- C. Benito Mussolini,
- D. Adolf Hitler

Zadanie 5. (0–4)

Do traktatów zawartych w okresie międzywojennym przyporządkuj właściwe opisy i wpisz je w miejsca wykropkowane.

- 1. Traktat z Rapallo z 1922 roku
.....
- 2. Pakt Reński na konferencji w Locarno z 1925 roku
.....

3. Układ monachijski z 1938 roku

.....



4. Pakt Ribbentrop-Mołotow z 1939 roku

.....

- A. dokonywał podziału Czechosłowacji
- B. rozpoczął współpracę ZSRR z Niemcami
- C. był planem podziału Europy Środkowej
- D. Niemcy gwarantowały nienaruszalność granicy z Belgią i Francją

Zadanie 6. (0–5)

Rozpoznaj postaci, które określane są jako “Ojcowie Niepodległości” Polski w 1918 roku. Połącz zdjęcia z imionami i nazwiskami wpisując odpowiednią literę w miejscu wykropkowanym obok zdjęcia.



- A. Wincenty Witos
- B. Józef Piłsudski
- C. Roman Dmowski
- D. Ignacy Jan Paderewski
- E. Ignacy Daszyński

Zadanie 7. (0–3)

Przeczytaj poniższy tekst i odpowiedz na pytania. Zaznacz prawidłowe wersje odpowiedzi.

“Jako Wódz Naczelny Armii Polskiej, pragnę notyfikować rządowi i narodom wojującym i neutralnym istnienie Państwa Polskiego Niepodległego, obejmującego wszystkie ziemie zjednoczonej Polski. Sytuacja polityczna w Polsce i jarzmo okupacji nie pozwoliły dotychczas narodowi polskiemu wypowiedzieć się swobodnie o swym losie. Dzięki zmianom, które nastąpiły wskutek świetnych zwycięstw armii sprzymierzonych – wznowienie niepodległości i suwerenności Polski staje się odtąd faktem dokonany...”

1. Kto był autorem powyższego fragmentu tekstu?

- A. Ignacy Jan Paderewski
- B. Józef Piłsudski

2. Kiedy został opublikowany?

- A. 16 listopada 1918 r.
- B. 22 listopada 1918 r.

3. Do kogo był adresowany?

- A. do państw zwycięskich w I wojnie
- B. do wszystkich państw uczestniczących w I wojnie

Zadanie 8. (0–2)

Wybierz i zaznacz prawidłowe odpowiedzi na pytania zamieszczone pod obrazem.



1. Jak brzmi prawidłowy tytuł obrazu?

- A. "Bitwa pod Komarowem"
- B. "Bitwa Warszawska"
- C. "Bitwa Nadniemeńska"
- D. "Cud nad Wisłą 15 sierpnia 1920 roku"

2. Kto jest autorem powyższego obrazu?

- A. Jerzy Kossak
- B. Tytus Czyżewski

Zadanie 9. (0–3)

Na zdjęciu widoczny jest ważny polityk z okresu II RP. Pełnił wysokie funkcje państwowe i zginął tragicznie. Zaznacz właściwe odpowiedzi na poniższe pytania.



1. Podaj imię i nazwisko polityka

- A. Józef Beck
- B. Gabriel Narutowicz

2. Jaką funkcję państwową pełnił?

- A. Premiera RP
- B. Prezydenta RP

3. Kiedy dokonano na niego zamachu?

- A. 9 grudnia 1922 roku
- B. 16 grudnia 1922 roku

Zadanie 10. (0–4)

To było największe przedsięwzięcie gospodarcze II RP. Poniżej zamieszczony jest oryginalny plan tej inwestycji. Wybierz i zaznacz prawidłowe odpowiedzi na pytania zamieszczone pod mapą.



1. Podaj pełną nazwę tej inwestycji:
 - A. Centralny Obszar Produkcyjny
 - B. Centralny Okręg Przemysłowy
2. Realizacja powyższej inwestycji rozpoczęła się:
 - A. w 1937 r.
 - B. w 1938 r.
3. Autorem koncepcji budowy przedsięwzięcia był:
 - A. Władysław Grabski
 - B. Eugeniusz Kwiatkowski
4. Na stolicę administracyjną powyższego obszaru inwestycyjnego wytypowano:
 - A. Radom
 - B. Sandomierz

Zadanie 11. (0–3)

Przeczytaj fragmenty trzech różnych tekstów źródłowych. W miejsca wykropkowane wybierz i wpisz nazwy konstytucji, których dotyczą zamieszczone fragmenty.

A.

Artykuł 2.

„Władza zwierzchnia w Rzeczypospolitej Polskiej należy do Narodu. Organami Narodu w zakresie ustawodawstwa są Sejm i Senat, w zakresie władzy wykonawczej — Prezydent Rzeczypospolitej łącznie z odpowiedzialnymi ministrami, w zakresie wymiaru sprawiedliwości — niezawisłe Sądy”.

Artykuł 39.

„Prezydenta Rzeczypospolitej wybierają na lat siedem bezwzględną większością głosów Sejm i Senat, połączone w Zgromadzenie Narodowe”.

Artykuł 44.

„Każdy akt rządowy Prezydenta Rzeczypospolitej wymaga dla swej ważności podpisu Prezesa Rady Ministrów i właściwego ministra, którzy przez podpisanie aktu biorą zań odpowiedzialność”.

B.

I.

„Sejm przyjmuje oświadczenie Józefa Piłsudskiego, że składa w ręce Sejmu urząd Naczelnika Państwa do wiadomości i wyraża Mu podziękowanie za pełne trudów sprawowanie urzędu w służbie dla Ojczyzny”.

II.

„Aż do ustawowego uchwalenia tej treści Konstytucji, która określi zasadniczo przepisy o organizacji naczelnych władz w Państwie Polskim, Sejm powierza dalsze sprawowanie urzędu Naczelnika Państwa Józefowi Piłsudskiemu na następujących zasadach:

- 1. Władzę suwerenną i ustawodawczą w Państwie Polskim jest Sejm Ustawodawczy; ustawy ogłasza Marszałek z kontrasygnatą Prezydenta Ministrów i odnośnego Ministra fachowego.*
- 2. Naczelnik Państwa jest przedstawicielem Państwa i najwyższym wykonawcą uchwał Sejmu w sprawach cywilnych i wojskowych.*
- 3. Naczelnik Państwa powołuje Rząd w pełnym składzie na podstawie porozumienia z Sejmem.*
- 4. Naczelnik Państwa oraz Rząd są odpowiedzialni przed Sejmem za sprawowanie swego urzędu.*
- 5. Każdy akt państwowy Naczelnika Państwa wymaga podpisu odnośnego Ministra”.*

C.

Art. 2.

“... (1) Na czele Państwa stoi Prezydent Rzeczypospolitej.

(2) Na Nim spoczywa odpowiedzialność wobec Boga i historii za losy Państwa.

(3) Jego obowiązkiem naczelnym jest troska o dobro Państwa, gotowość obronną i stanowisko wśród narodów świata.

(4) W Jego osobie skupia się jednolita i niepodzielna władza państwowa ...”.

1. Tzw. Mała Konstytucja z 20 lutego 1919 roku
2. Konstytucja Marcowa z 17 marca 1921 roku
3. Konstytucja Kwietniowa z 23 kwietnia 1935 roku

- A.
- B.
- C.

Zadanie 12. (0–2)

Zaznacz właściwe odpowiedzi na pytania zamieszczone pod zdjęciem.



12.1 Jaka była popularna nazwa tego wagonu spalinowego?

- A. Lukstorkeda
- B. Błyskawica
- C. Luxtorpeda
- D. Piorun

12.2 Jaki był rekord prędkości tej maszyny na trasie Kraków-Zakopane?

- A. 100 km/1h B. 115 km/1h C. 157 km/1h

Zadanie 13. (0–3)

Zamieszczone plakaty propagandowe przyporządkuj do ich tytułów, wpisując w miejsca wykropkowane właściwą cyfrę.



- A. Radziecki plakat propagandowy z 1939 roku -
B. Polski plakat propagandowy z 1939 roku -
C. Radziecki plakat propagandowy z 1920 roku -

Zadanie 14. (0–3)

Tekst przedstawia orędzie Prezydenta USA. Zaznacz prawidłowe odpowiedzi na pytania poniżej.

W dniu wczorajszym, ... (usunięto datę!) – będzie to na zawsze data haniebna – Stany Zjednoczone zostały nagle i zgodnie ze znacznie wcześniej powziętym zamiarem zaatakowane siłami morskimi i powietrznymi ... (usunięto nazwę państwa!). Należy zaznaczyć, że oddalenie Hawajów od ... (usunięto nazwę państwa!) nie pozostawia żadnej wątpliwości, że atak był z rozmysłem planowany wiele dni lub nawet tygodni naprzód. W tym samym czasie Rząd ... (usunięto nazwę państwa!) świadomie wprowadzał w błąd Stany Zjednoczone fałszywymi oświadczeniami i wyrażaniem nadziei na zachowanie pokoju.

Wczorajszy atak na Wyspy Hawajskie spowodował poważne szkody w amerykańskich siłach morskich i wojskowych. Bardzo wielu Amerykanów utraciło życie.


1. “W dniu wczorajszym”, czyli kiedy? Wybierz właściwą datę.
A. 7 grudnia 1941 r.
B. 7 grudnia 1940 r.
2. Który prezydent wygłosił to orędzie?
A. Thomas Woodrow Wilson
B. Franklin Delano Roosevelt

3. Które państwo napadło wówczas Stany Zjednoczone?

- A. III Rzesza Niemiecka
- B. Cesarstwo Japonii

Zadanie 15. (0–1)

Zdjęcie ilustruje miejsce upamiętniające męczeństwo ludności polskiej mieszkającej na wsi. Zaznacz właściwą odpowiedź.



1. To mauzoleum znajduje się w :

- A. Pińczowie
- B. Tokarni
- C. Michniowie
- D. Wiślicy

Zadanie 16. (0–4)

Rozpoznaj na podstawie zamieszczonych opisów sylwetki wybitnych Polaków z czasów okupacji niemieckiej. W miejsca wykropkowane wybierz i wpisz poprawne imię i nazwisko.

1. Dowodził oddziałem kawalerii w czasie kampanii wrześniowej, a po jej zakończeniu kontynuował walkę dowodząc oddziałem partyzanckim na terenie Kielecczyny. Zginął pod Anielinem w 1940 roku.
2. Przedwojenna działaczka PPS, w czasie wojny współpracowała z “Żegotą”. Angażowała się w pomoc represjonowanym Żydom. Być może dzięki jej zaangażowaniu udało się uratować ok. 2500 dzieci żydowskich. Mimo aresztowań i represji przeżyła wojnę.
3. Na polecenie rządu polskiego zbierał informacje na temat zagłady Żydów polskich. Następnie wyjechał z terenów okupowanych aby powiadomić rządu Wielkiej Brytanii i USA o tym ludobójstwie. W Kielcach posiada słynną “ławeczkę”.
4. Rotmistrz kawalerii WP, żołnierz AK i więzień KL Auschwitz, autor raportu o zagładzie Żydów, zamordowany w 1948 roku przez władze komunistyczne.

- A. Stefan Rowecki
- B. Henryk Dobrzański
- C. Witold Pilecki
- D. Danuta Kasprzycka
- E. Irena Sendlerowa
- F. Jan Karski
- G. Kazimierz Pużak

- 1.
- 2.
- 3.
- 4.

Zadanie 17. (0–4)

Do wymienionych stanowisk dopasuj i wpisz nazwiska przywódców wojskowych i politycznych Polskiego Państwa Podziemnego.

- A. Komendant Główny AK
- B. Komendant Okręgu Warszawa AK
- C. Naczelnny Wódz
- D. Premier RP na uchodźstwie

- 1. Stanisław Mikołajczyk
- 2. Kazimierz Sosnowski
- 3. Tadeusz Bór-Komorowski
- 4. Antoni Chruściel

Zadanie 18. (0–5)

Zaznacz prawidłowe odpowiedzi na pytania zamieszczone pod zdjęciem.



1. W jakim mieście odbyła się konferencja? Zaznacz prawidłową odpowiedź.

- A. Teheran
- B. Jałta
- C. Poczdam

2. W którym roku odbyła się konferencja ?

- A. 1943
- B. 1944
- C. 1945

3. W kolejności wskazanej wybierz i wpisz w miejsca wykropkowane właściwe nazwiska przywódców uczestniczących w konferencji

Nr. 1

Nr. 2

Nr. 3

Wybierz z następującej listy: a. Winston Churchill, b. Harry Truman, c. Clement Attlee, d. Franklin Delano Roosevelt, e. Józef Stalin,

Zadanie 19. (0–1)

Wybierz i zaznacz właściwy tytuł poniższej mapy.



- 1. Integracja europejska na etapie 1986 r.
- 2. Integracja europejska na etapie 1989 r.
- 3. Integracja europejska na etapie 1990 r.
- 4. Integracja europejska na etapie 1992 r.

Zadanie 20. (0–4)


Rozpoznaj przywódców komunistycznej Polski po 1945 roku. Dopasuj do nazwisk numery zdjęć.



- A. Władysław Gomułka -
- B. Edward Gierek -
- C. Wojciech Jaruzelski -
- D. Bolesław Bierut -

Zadanie 21. (0–2)

Przyporządkuj numer zdjęcia do właściwego opisu.



- A. Wydarzenia polskiego grudnia na Wybrzeżu w 1970 roku -
- B. Stan wojenny 1981 rok -

Zadanie 22. (0–3)

Wybierz i dopasuj właściwe daty do wymienionych wydarzeń.

1. Uchwalenie Konstytucji III RP -
2. Wejście Polski do NATO -
3. Wejście Polski do UE -

- A. 1 maja 2004 r.
- B. 12 marca 1999 r.
- C. 2 kwietnia 1997 r.

Zadanie 23. (0–1)

Ilustracja pokazuje jedno z następstw zjawiska globalizacji. Wybierz i zaznacz właściwą odpowiedź.



- A. Rozwój zagranicznej edukacji.
- B. Swoboda w poszukiwaniu pracy w dowolnym miejscu na ziemi.
- C. Rozwój światowej turystyki.
- D. Duże możliwości ucieczki przed krajowym wymiarem sprawiedliwości.